

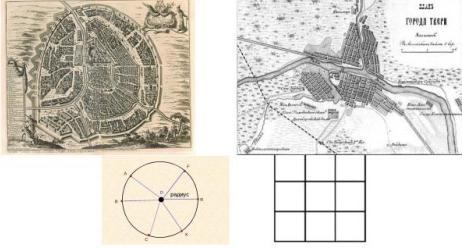
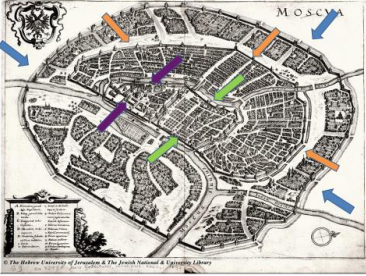
Рекомендации по работе с материалами для тематического занятия (классного часа) «Окольцованная Москва» для обучающихся 9 - 11 классов

Цель: формирование основ российской гражданской идентичности, чувства гордости за свой город и его историю.

Задачи:

- систематизировать знания о городе, знакомить с общими принципами застройки территории столицы с сохранением культурно-исторического наследия;
- развивать компетенции безопасного нахождения и ориентирования в Москве;
- формировать основу общей культуры.

Методический материал носит рекомендательный характер; педагог по своему усмотрению может вносить коррективы в ход занятия, менять задания, их сложность и количество.

Слайд	Комментарий для учителя
<p data-bbox="316 1173 523 1196">ТИП ГОРОДСКОЙ ЗАСТРОЙКИ</p> 	<p data-bbox="756 1189 906 1223">Задание 1.</p> <p data-bbox="699 1245 1430 1361">1. Сравните схемы городской застройки. Какой тип можно назвать «шахматной» застройкой, какой «радиально-кольцевой»?</p> <p data-bbox="699 1384 1430 1458">2. Предположите, о чем сегодня пойдет речь на занятии?</p>
	<p data-bbox="756 1503 906 1536">Задание 2.</p> <p data-bbox="699 1559 1430 1637">Расположите в хронологическом порядке краткую историю изменений территории Москвы.</p> <ol style="list-style-type: none"><li data-bbox="756 1659 1145 1693">1. Современная территория.<li data-bbox="756 1715 1430 1749">2. Территория по генеральному плану 1935 года.<li data-bbox="699 1771 1430 1883">3. Белый город (стены построены в 1586-1593 годах, которые заменены в конце XVIII – начале XIX века бульварами).<li data-bbox="699 1906 1430 2018">4. Земляной город. Деревянная стена возведена в 1593 году, сгорела в 1611 году. На ее месте возведен высокий вал, срытый в 1820 годах.<li data-bbox="756 2040 1430 2074">5. Город в пределах Камер-Коллежского вала,

возведенного в 1742 году.

6. Территория в пределах МКАД (1962 год).

7. Кремль и Китай-город (обнесен стенами в 1536-1538 годах).

1. Кремль и Китай-город (обнесен стенами в 1536-1538 годах).

2. Белый город (стены построены в 1586-1593 годах, которые заменены в конце XVIII – начале XIX века бульварами).

3. Земляной город. Деревянная стена возведена в 1593 году, сгорела в 1611 году. На ее месте возведен высокий вал, срытый в 1820 годах.

4. Город в пределах Камер-Коллежского вала, возведенного в 1742 году.

5. Территория по генеральному плану 1935 года.

6. Территория в пределах МКАД (1962 год).

7. Современная территория.

Рассмотрите на древней схеме города XVII века Кремль (фиолетовые стрелки), Китай-город (салатовые стрелки), Белый город (песочные стрелки) и Земляной вал (голубые стрелки).

– Какая конфигурация сформировалась в результате городской застройки?

– С какой целью использовались строения?

КОЛЬЦЕВАЯ ЗАСТРОЙКА МОСКВЫ



Задание 3.

Посмотрите [отрывок](#) из документального фильма «Эволюция Москвы». Прочитайте тексты и расположите их таким образом, чтобы они совпадали с описанием сооружения.

1. Самое первое московское кольцо появилось на месте первого крепостного укрепления. Крепость состояла из вала, рва с водой глубиной до девяти метров и частокола. Деревянное укрепление часто страдало от набегов противника и пожаров.

2. Угроза набегов крымских татар привела к тому, что в 1534 году во времена правления Елены Глинской (матери Ивана Грозного) вокруг

московского посада стали сооружать еще одну крепостную стену. Она вплотную примыкала к Московскому Кремлю, включала в себя 12 башен и имела общую длину более двух с половиной километров. Стена стала вторым кольцом Москвы.

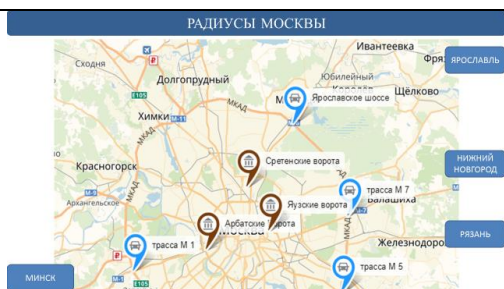
3. В столицу продолжали стягиваться купцы и ремесленники, город увеличивался, внутри крепостных стен не хватало места, дома стали появляться и вокруг укреплений. Новую местность стали называть Белым городом. В 1593 году Белый город окружила еще одна крепостная стена, ставшая третьим кольцом Москвы. В стене было 27 башен и 11 ворот.

4. В конце XVI века границы Москвы снова вышли за пределы, и в 1593 году в ее состав вошла территория, находившаяся за стенами Белого города. Раньше здесь располагались деревни, земли монастырей, дома ремесленников и купцов с огородами и садами. Для защиты новой городской территории были построены деревянные укрепления, общая длина которых достигала 15 километров, а затем на этом месте был сооружен земляной вал, окруженный рвом.

Кремль, Китай-город, Белый город, Земляной вал, Камер-коллежский вал.

– Какую основную функцию несли стены города?

– Какое значение они имели для жителей?




Задание 4.

Сопоставьте места расположения ворот Белого города и направления современных трасс.

– В каждом из «колец» были ворота. Как вы думаете, куда вели дороги от ворот?

– Предположите, почему дороги из города и в город проходили через ворота?

– Можно ли назвать такие дороги радиусами города?



«...просил учинить к зданию одного вспомоществование такими казенными материалами, которые напрасно пропадают, т.е. обвалившейся по Белому городу во многих местах стены и из разобранных ворот»

Задание 5.

Прочитайте отрывок из книги П.В. Сытина «История планировки и застройки Москвы», ответьте на вопросы.

«В письме от 22 декабря 1763 года граф П.С. Салтыков (генерал-губернатор Москвы) писал императрице Екатерине II:

«...просил учинить к зданию одного [Воспитательный дом на Москворецкой набережной – ред.] вспомоществование такими казенными материалами, которые напрасно пропадают, т.е. обвалившейся по Белому городу во многих местах стены и из разобранных ворот».

– Предположите, почему императрица разрешила разобрать обветшавшие во 2-ой половине XVIII века стены укрепления?

– Какие из крепостных стен сохранили свой внешний вид до сих пор?



А. М. Васнецов «Всехевский каменный мост. Москва конца XVII века»

Задание 6.

Посмотрите [отрывок](#) из документального фильма «Эволюция Москвы», прочитайте отрывок из документа «План Москвы, прожектированный по городу и предместьям», подписанный Екатериной II в 1775 году:

«...Полагается быть городу согласно с древним основанием: Кремлю, Китаю и Белому; дома строить каменные, а к знанию границ и ко украшению города обсадить деревьями... в земляном городе полагаются предместья, дома строить деревянные... Оные предместья ограничит земляной вал...»

– Предположите, почему стала необходима перестройка города с частичной перепланировкой?

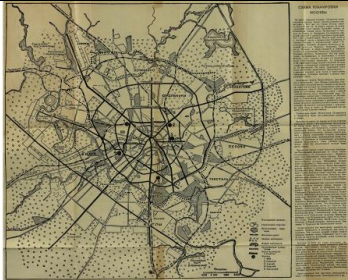
– Что в результате перепланировки возникло на месте стен Белого города? На месте Земляного вала? После перестройки стен какое значение приобрели для горожан места застройки?



Задание 7.

Посмотрите [отрывок](#) из документального фильма «Эволюция Москвы».

- Какие функции возникли у нового «кольца»?
- Предположите, почему новая застройка стала иметь такой же градостроительный вид, как и предыдущие?



Задание 8.

Рассмотрите схему планировки Москвы 1935 года, обратите внимание на выделенные линии, прочитайте отрывок из текста Постановления СНК СССР и ЦК ВКП(б) 10 июля 1935 г. о Генеральном плане реконструкции г. Москвы):

«...Взглянем на карту: от центра ее во все стороны расходятся линии, – это радиальные магистрали; на карте четко видны линии, образующие несколько колец, – это бульварное, садовое и вновь образуемые кольца. Эта исторически сложившаяся радиально-кольцевая система улиц и принята в основу планировки столицы, дополнена системой новых улиц, разгружающих центр столицы от движения и позволяющих установить прямую транспортную связь районов города между собой без обязательного проезда через центр города...»

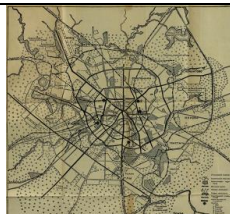
- Что означает в документе «исторически сложившаяся» система улиц?
- Удалось ли сохранить при строительстве «историческую» планировку? Сохранилась ли она до нашего времени?
- Какие функции выполняют сегодня места в городе, которые ранее были застроены укреплениями?



Задание 9.

Посмотрите [отрывок](#) из фильма «Покровские ворота».

- Какие слова находит герой фильма, чтобы описать «кольца» Москвы?
- Как можно описать его чувства по отношению к городу?



Задание 10.

Рассмотрите схемы планировки Москвы 1935 года и схему развития метрополитена в Москве на 2013 – 2020 годы, обратите внимание на выделенные линии.

– Назовите современные московские кольца, которые вы знаете.

– Поменялась ли культурно-историческая схема столицы в результате реконструкций?

– В каких направлениях развивается строительство современного города: в радиальном или кольцевом?