

Рекомендации по работе с презентацией тематического занятия

(классного часа) «Храм Победы»

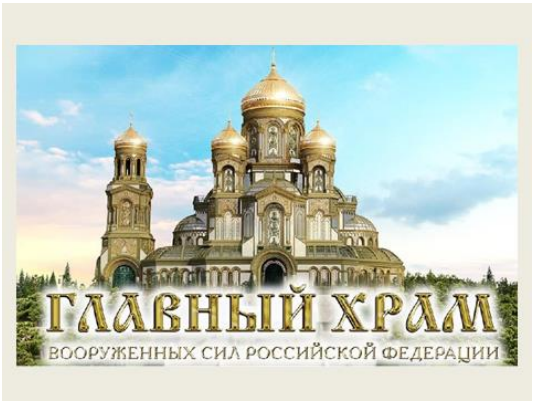
для обучающихся 9-11 классов




Цель: формирование ценностного отношения к событиям Великой Отечественной войны 1941-1945 гг., осмысление обучающимися опыта героической защиты Родины.



Задачи:

- воспитание у обучающихся благодарной памяти о людях, установивших мир на планете, чувства гордости за свою страну;
- воспитание у обучающихся чувства патриотизма и ответственности;
- развитие умения аргументированно высказывать свою точку зрения;
- формирование гуманистических качеств личности.

Методический материал носит рекомендательный характер; учитель, принимая во внимание особенности каждого класса, может варьировать задания, их количество, менять этапы урока.

Слайд	Комментарий для учителя
	<p>Задание 1</p> <p>Справка</p> <p>9 мая 2020 года к 75-летию Победы в Великой Отечественной войне в подмосковном парке «Патриот» будет торжественно открыт Главный храм Вооруженных сил РФ или, как его еще называют, храм Победы.</p> <p>Посмотрите изображения на слайде и обзорную панораму храма Победы, выполните задание.</p> <ol style="list-style-type: none">1. О чем пойдет речь на классном часе?2. Сформулируйте цель и задачи нашего

	<p>занятия. Сформулируйте вопросы к теме «Храм Победы», ответы на которые вы хотели бы получить в ходе занятия.</p> <p>Аргументируйте свой ответ.</p>
<p>Храм спроектирован в монументальном русском стиле, органично включающем современные архитектурные подходы и уникальные для православного храмоздательства нововведения. Фасады здания будут отделаны металлом, своды – остеклены</p> 	<p>Задание 2</p> <p>Изучите изображение на слайде, прочитайте фрагмент текста, выполните задание.</p> <p>Заполните таблицу, приведя в соответствие названия фотографий и подписи к ним.</p>
<p>Храм Победы: в фактах и цифрах Высота храма вместе с крестом по проекту составит 95 метров. Диаметр барабана главного купола составит 19,45 метров. 1945 год – окончание Великой Отечественной войны. Высота звонницы составит 75 метров. В 2020 году исполняется 75 лет со дня окончания Великой Отечественной войны. Высота малого купола составит 14,18 метров. 1418 дней и ночей длились боевые действия в Великой Отечественной войне</p> 	<p>Задание 3</p> <p>Изучите изображение и материалы, размещенные на слайде и в рабочем листе.</p> <ol style="list-style-type: none"> 1. Дайте краткую характеристику храму Победы. 2. Диаметр купола – 22,43 метра. В нем будет 8 окон. Какое историческое событие зашифровано в этих цифрах? <p><i>Ответ: В этих цифрах зашифровано точное время подписания акта о безоговорочной капитуляции Германии – 8 мая 1945 года в 22 часа 43 минуты.</i></p>
	<p>Задание 4</p> <p>Справка</p> <p><i>Главный храм Вооруженных сил РФ, строящийся в подмосковном парке «Патриот», спроектирован в монументальном русско-византийском стиле.</i></p> <p>Прочитайте фрагмент текста, рассмотрите изображение на слайде, выполните задания.</p> <ol style="list-style-type: none"> 1. Покажите элементы композиционной

	<p>формулы К.А.Тона на представленных изображениях храма Победы.</p> <p>2. Установите, что общего в представленных в рабочем листе храмах.</p>
 <p>БОКОВЫЕ ПРИДЕЛЫ ХРАМА</p> <p>Каждый из приделов посвящен святому – покровителю одного из родов войск и видов Вооруженных Сил России</p> <p>Придел Святого Илии Пророка, покровителя ВВС и ВДВ России</p> <p>Придел Св. Варвары Великомученицы, покровительницы РВСН</p> <p>Придел Святого Апостола Андрея Первозванного, покровителя Военно-Морского Флота</p> <p>Придел Святого Александра Невского, покровителя Сухопутных войск</p>	<p>Задание 5</p> <p>Рассмотрите изображение на слайде, выполните задание.</p> <p>Заполните таблицу, приведя в соответствие названия фотографий и подписи к ним.</p>
 <p>Мемориальный мужской комплекс «ДОРОГА ПАМЯТИ» 1418 шагов</p>	<p>Задание 6</p> <p>Справка</p> <p><i>Операция «Уран» – контрнаступление во время Великой Отечественной войны войск трёх фронтов: Юго-Западного, Сталинградского и Донского – с целью окружения и уничтожения вражеской группировки войск в районе города Сталинграда. Координирование действий трёх фронтов осуществлял начальник Генерального штаба А. М. Василевский. Началась 19 ноября 1942 года.</i></p> <p>Прочитайте фрагмент текста, рассмотрите изображение на слайде, выполните задание.</p> <ol style="list-style-type: none"> 1. Объясните, в память о чем заложена длина галереи «Дорога памяти» 1418 шагов? 2. На какой год Великой Отечественной войны 1941-1945 гг. приходится день, обозначенный на слайде. 3. Когда началась операция «Уран»? На какой день войны приходится начало этой военной операции?

Ответ: Операция «Уран» началась на 507 день Великой Отечественной войны 1941-1945гг.



Задание 7

Прочитайте фрагмент текста, рассмотрите изображения на слайде, выполните задания.


Справка

В галерее будут размещены данные о более чем 33-х миллионах участниках войны и их сохранившиеся фотографии.

В галерее у Главного храма Вооруженных сил России не только прочитаем фамилии фронтовиков – мы увидим их лица.

Изучите официальный сайт [«Память народа»](#), рассмотрите в галерее «Дорога памяти» фотографии героев Великой Отечественной войны 1941-1945гг.

1. Опишите лица героев войны.
2. Изучите материалы о своем герое Великой Отечественной войны 1941-1945гг. Хотите ли вы принять участие в данном проекте?



Задание 8

Прочитайте высказывание, рассмотрите изображения на слайде, выполните задания.

1. Объясните, какой смысл вложил министр обороны в свое высказывание.
2. В чем заключается историческая значимость возведения Главного храма Вооруженных сил Российской Федерации?